







Afstandsonderwijs – opdrachten L4L en L4R

Woensdag 09 - 12 -2020

Vak	Taak	Klaar? Ik vond het...
Wiskunde	<p><u>Blok 3 les 1: Positieve en negatieve temperatuur</u></p> <p><i>Ik kan ...</i></p> <ul style="list-style-type: none">- de temperatuur aflezen en aanduiden op de thermometer- het verschil bepalen tussen 2 temperaturen- positieve en negatieve getallen plaatsen op de getallenlijn <p>! Bekijk eerst goed het filmpje en de uitlegkaart en ga nadien aan de slag Oefening 6 MAG je maken</p>	 
Nederlands	<p><u>Thema 5: Met Noga en een rugzak: Spelling: De feestenkalender</u></p> <p><i>Ik kan ...</i></p> <ul style="list-style-type: none">- de feestenkalender aanvullen <p>! Kinderen met een donkergroen kaartje maken het woorddictee</p>	 
M&M	<p><u>Maatschappij: Kinderrechten: Wat mag en wat moet? Kinder – en mensenrechtenorganisaties</u></p> <ul style="list-style-type: none">- ik maak kennis met enkele organisaties die erop toezien dat de mensenrechten en kinderrechten gerespecteerd worden.	 

Druk de blaadjes thuis af en maak de opdrachten.

Breng je gemaakte taken mee naar school op maandag 14 december.

Kan je de blaadjes thuis niet afdrukken? Geen probleem! Bekijk de opdrachten op de computer en schrijf jouw oplossingen op aparte blaadjes die je dan meebrengt op maandag 14 december.

Veel succes, meester Steven, juf Dorien, juf Yasmin en juf Michelle

<p><u>HULP</u></p>	<p>Heb je onderweg problemen of vragen? Handel dan steeds volgens het volgende stappenplan:</p> <p> BREIN Denk goed na. Heb je alle opties overlopen?</p> <p> BOEK Zoek het antwoord in het handboek.</p> <p> BUUR Contacteer een klasgenootje.</p> <p> BAAS Stuur een berichtje naar je leerkracht: meester Steven: steven.cammaert@hotmail.be juf Michelle: sandersmichelle@hotmail.com</p> <p>OF</p> <p>Vraag om hulp via Whereby: (Elke schooldag van 9u tot 12u en van 13.30 uur tot 15.00 uur) meester Steven: https://whereby.com/meestersteven juf Michelle: https://whereby.com/juf-michelle juf Yasmin: https://whereby.com/juf-yasmin</p>
---------------------------	---

Bekijk eerst het filmpje

<https://www.xnapda.be/filmpjes/4de-leerjaar/negatieve-getallen-temperatuur>

Hieronder vind je nog een uitlegkaart

Positieve en negatieve getallen

Positieve getallen zijn getallen groter dan of gelijk aan 0, bijvoorbeeld 4.

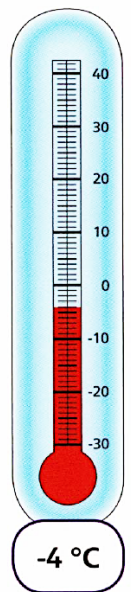
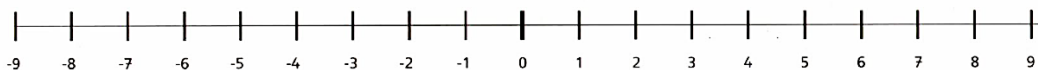
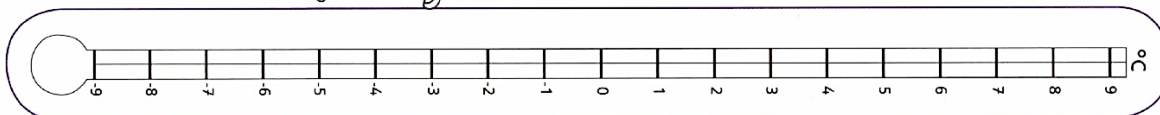
Negatieve getallen zijn getallen kleiner dan 0. Je herkent ze aan het minteken, bijvoorbeeld -4.

Waar zie je negatieve getallen?

- op een thermometer
- in een lift
- in een parkeergarage
- ...

Bijvoorbeeld:

- Ik lees dit als min vier graden Celsius.
- Min vier graden Celsius is kouder dan min twee graden Celsius.



LES 1

BLOK 3

meten

getallen

Positieve en negatieve temperatuur

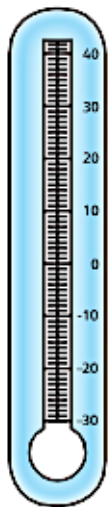
Wat ga je doen?

- de temperatuur aflezen en aanduiden op de thermometer
- het verschil bepalen tussen twee temperaturen
- positieve en negatieve getallen plaatsen op de getallenlijn

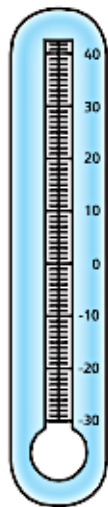
Temperatuurwaarneming
26 maart om 10.00



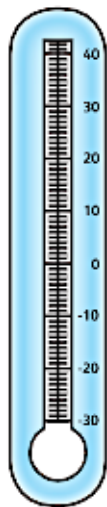
1 Kijk naar de kaart van Europa. Geef de temperatuur aan.



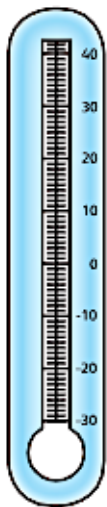
België



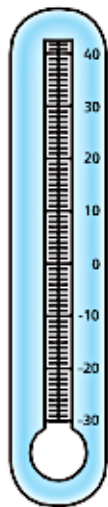
Spanje



Noorwegen



Frankrijk



Duitsland

2 Lees de temperatuur en vul in.

Zweden: _____ °C

Italië: _____ °C

Groot-Brittannië: _____ °C

Finland: _____ °C

3 Rangschiik deze landen volgens temperatuur. Begin bij de hoogste temperatuur. Nummer van 1 tot 6.

<input type="checkbox"/> België	<input type="checkbox"/> Spanje	<input type="checkbox"/> Noorwegen
<input type="checkbox"/> Zweden	<input type="checkbox"/> Frankrijk	<input type="checkbox"/> Duitsland

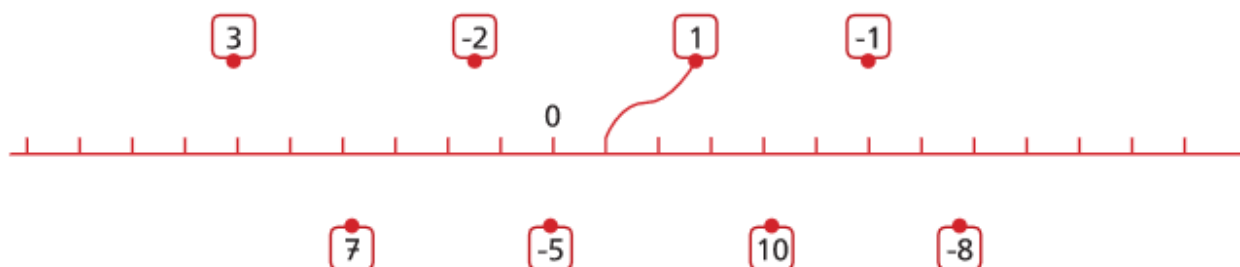


4 Kleur het warmste land. Vul de temperatuur in. Bereken het temperatuurverschil.

België _____ °C	Zweden _____ °C	Finland _____ °C
Spanje _____ °C	Duitsland _____ °C	Noorwegen _____ °C

Het temperatuurverschil is _____ °C. Het temperatuurverschil is _____ °C. Het temperatuurverschil is _____ °C.

5 Op de kaartjes vind je de temperatuur in °C. Verbind deze kaartjes met de getallenlijn.



Onderstaande oefening is een 'magie' voor wie de uitdaging aandurft... 😊

6 Lees de zinnen. Noteer de temperaturen in de tabel.

Maanden	Gemiddelde ochtendtemp.	Gemiddelde nachttemp.
januari	-3°C	-9°C
februari		-9°C
maart	-1°C	-7°C
april		
mei	14°C	
juni	19°C	9°C
juli		
augustus	20°C	12°C
september		
oktober	8°C	3°C
november		-1°C
december	-1°C	

- In februari is de gemiddelde ochtendtemperatuur 1°C lager dan in januari.
- In april is de gemiddelde ochtendtemperatuur 9°C hoger dan in januari. De gemiddelde nachttemperatuur is 8°C hoger dan in januari.
- In mei is de gemiddelde nachttemperatuur 18°C hoger dan in februari.
- In juli is de gemiddelde ochtendtemperatuur 3°C hoger dan in juni. De gemiddelde nachttemperatuur is 4°C hoger dan in juni.
- In september is de gemiddelde ochtendtemperatuur 8°C lager dan in augustus. De gemiddelde nachttemperatuur is 3°C hoger dan in juni.
- In november is de gemiddelde ochtendtemperatuur 6°C hoger dan in januari.
- In december is de gemiddelde nachttemperatuur 2°C hoger dan in maart.

Gemiddelde temperatuur Helsinki

Mirre zag in het toilet bij de dames Proost een kalender hangen waarop de dames al een heleboel feestdagen hadden aangevuld.

1) Hieronder vind je de verjaardagskalender van de dames Proost.

Klik op de link voor het dictee: https://youtu.be/VVX2S_mwnRA

*Luister goed naar meester Steven en vul de kalender aan.
(lichtgroen kaartje blz. 6 en 7, donkergroen kaartje blz. 8)*

! VOOR DE KINDEREN MET EEN LICHTGROEN KAARTJE !

1 januari Het nieuwe jaar begint!	17 januari
2 januari	18 januari
3 januari We feesten met de burens. Janna bakt een cake.	19 januari Janna doet een dagje niets.
4 januari	20 januari
5 januari	21 januari
6 januari	22 januari
7 januari Anna reist naar Brussel.	23 januari
8 januari	24 januari Janna is een half jaar meter.
9 januari	25 januari



10 januari

We gaan naar de zoo.

26 januari

11 januari

27 januari

12 januari

28 januari

Sam, Daan, Isa, Dorien, Lara en Maaïke spelen toneel.

13 januari

29 januari

14 januari

30 januari

15 januari

Anna viert haar zwemdiploma.

31 januari

16 januari

Neeffe Michiel is jarig.



! VOOR DE KINDEREN MET EEN DONKERGROEN KAARTJE !

1 januari Het nieuwe jaar begint!	17 januari
2 januari	18 januari Janna _____ jaar.
3 januari We feesten met de burens. Janna bakt een cake.	19 januari Janna doet een dagje niets.
4 januari Anna gaat naar de _____. We _____ haar _____.	20 januari
5 januari	21 januari Tia blijft _____. Ze _____ het hier leuk. We _____ koekjes.
6 januari	22 januari
7 januari Anna reist naar Brussel.	23 januari De parkiet _____ drie jaar. Hij krijgt een _____.
8 januari Pim komt op _____. Hij _____ van pizza.	24 januari
9 januari	25 januari
10 januari We gaan naar de zoo.	26 januari
11 januari	27 januari Carlos geeft een feestje. Anna _____.
12 januari Janna moet naar de dokter. _____ we taart.	28 januari Sam, Daan, Isa, Dorien, Lara en Maaïke spelen toneel.
13 januari	29 januari
14 januari	30 januari Tante Jet brengt haar _____. Ze _____ om vier uur.
15 januari Anna viert haar zwemdiploma.	31 januari
16 januari Neefje Michiel is jarig.	

2) Kijk je tekst na.

Onderstreep de woorden waaraan je twijfelt met potlood.

3) Morgen krijg je de correctiesleutel, dan kan je je dictee verbeteren.

Je onderstreept dan alle fout geschreven woorden met groen.

Je schrijft dan alle fout geschreven woorden 3 keer.

Er zijn over de hele wereld en in België heel wat organisaties die erop toezien dat mensenrechten en kinderrechten gerespecteerd worden. Zo zijn er Amnesty International, de Verenigde Naties en Unicef, organisaties die de rechten in de hele wereld in de gaten houden. Specifiek voor de kinderrechten in België is er het kinderrechtensecretariaat. Maar ook awel.be helpt kinderen. Zij geven een antwoord op alle vragen over kinderrechten. En dat is ook een recht, recht op informatie!

Verbind op de volgende pagina het juiste logo met de juiste naam van de organisatie en de juiste uitleg.






Je vindt onder andere info op:

[https://wikikids.nl/Amnesty International](https://wikikids.nl/Amnesty_International)

[https://wikikids.nl/Verenigde Naties](https://wikikids.nl/Verenigde_Naties)

<https://wikikids.nl/UNICEF>

De logo's vind je door te zoeken bij google afbeeldingen.

				
●	●	●	●	●
●	●	●	●	●
Amnesty International	De verenigde naties	Unicef	Kinderrechten-commissariaat	awel.be
●	●	●	●	●
●	●	●	●	●
Het Vlaams Parlement richtte ons op om ervoor te zorgen dat niemand de kinderrechten zou vergeten.	Wij zijn een wereldwijde organisatie die ijvert voor de naleving van alle mensenrechten. Wij hopen op een wereld waarin alle mensenrechten werkelijkheid zijn voor alle mensen.	Alle kinderen en jongeren kunnen ons anoniem contacteren over alles wat hen bezighoudt. We zijn er voor hen door te luisteren, mee te voelen en mee te denken.	Wij zijn een organisatie die is ontstaan vlak na WO II. Wij vonden het toen heel belangrijk dat alle mensen dezelfde rechten hadden en stelden daarom de 'Universele verklaring van de rechten van de mens' op.	Wij zijn het Kinderfonds van de Verenigde Naties en we zijn de grootste organisatie voor kinderen en hun rechten. We zijn namelijk actief in 156 landen!